

پیک نوروزی  
پایه ششم



به همت فانه فرهنگی غدیر





بهار از راه رسیده است

در شهر، گل‌های بنفشه در جعبه‌های چوبی، دست به دست می‌شود و سفره‌های هفت سین، حال و هوای عید را به خانه‌ها، می‌آورد هر فصل با ویژگی‌های متفاوتش، چیزهایی را به ما می‌آموزد درسی که بهار به ما می‌دهد، رویش، جوانه زدن و شروع مجدد است وقتی طبیعت، دوباره سبز می‌شود و درختان، جوانه می‌زنند، یاد می‌گیریم که پایان سختی‌ها و سردی‌ها، آسایش و آرامش است و نباید در مشکلات ناامید شویم

آمدن دوباره بهار را به شما تبریک می‌گوییم و رویش همیشه‌ی امید را برایتان، آرزو مندیم

و به بهانه‌ی این شروع دوباره، به کمک اساتید محترم، پیک نوروزی برای شما عزیزان طراحی و آماده شده تا بتوانید مروری بر آنچه تا اکنون آموخته‌اید، داشته باشید

اساتید عزیز می‌خواهند که ما را در این کار همراهی نمودند

طراح سوال: سرکار خانم اندیشه حسینی

طراح جلد و صفحه‌بندی: سرکار خانم لیدا انصاری


سه سال نو مبارک!





برای هر روز از تعطیلات عید نوروز صفحاتی از درس ها را بنویسید و برای مطالعه آن برنامه ریزی کنید.


قرآن	هدیه	مطالعات	علوم	فارسی	ریاضی	
___ تا ___	___ تا ___	___ تا ___	___ تا ___	___ تا ___	___ تا ___	۲ فروردین
___ تا ___	___ تا ___	___ تا ___	___ تا ___	___ تا ___	___ تا ___	۳ فروردین
___ تا ___	___ تا ___	___ تا ___	___ تا ___	___ تا ___	___ تا ___	۴ فروردین
___ تا ___	___ تا ___	___ تا ___	___ تا ___	___ تا ___	___ تا ___	۵ فروردین
___ تا ___	___ تا ___	___ تا ___	___ تا ___	___ تا ___	___ تا ___	۶ فروردین
___ تا ___	___ تا ___	___ تا ___	___ تا ___	___ تا ___	___ تا ___	۷ فروردین
___ تا ___	___ تا ___	___ تا ___	___ تا ___	___ تا ___	___ تا ___	۸ فروردین
___ تا ___	___ تا ___	___ تا ___	___ تا ___	___ تا ___	___ تا ___	۹ فروردین
___ تا ___	___ تا ___	___ تا ___	___ تا ___	___ تا ___	___ تا ___	۱۰ فروردین
___ تا ___	___ تا ___	___ تا ___	___ تا ___	___ تا ___	___ تا ___	۱۱ فروردین
___ تا ___	___ تا ___	___ تا ___	___ تا ___	___ تا ___	___ تا ___	۱۲ فروردین





یک هرم کشیده و گسترده آن را رسم کنید؟

زاویه خواسته شده را بیابید. راه حل خود را بنویسید.



نسبت پول حمید به مجید ۳ به ۴ و نسبت پول مجید به سعید ۶ به ۵ است  
نسبت پول این سه نفر را حساب کنید؟





قسمت های مختلف جملات تشبیهی زیر را مشخص کنید.



دیده ی اهل طمع به نعمت دنیا پر نشود همچنانکه چاه به شبنم

خاطره یک روز در عید نوروز را بنویس.



A large, rounded rectangular area with a black border, containing ten horizontal blue lines for writing.




مفهوم بیت های زیر را بنویس.

میانش به خنجر به دو نیم کرد      دل جادوان زو پر از بیم کرد

ز هر بد تویی بندگان را پناه      تو دادی مرا گردی و دستگاه

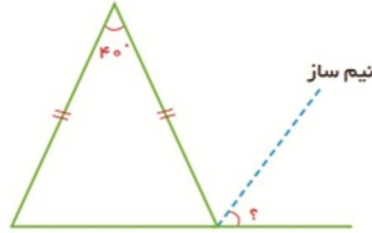
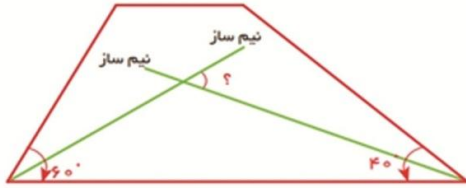


گل هایی که از روی پارچه های گلدار قیچی می کنید را در تصویر بچسبانید و این منظره را بهاری کنید.





اندازه زاویه‌های مورد نظر را بدست آورید؟



اگر ۴ جلد کتاب را ۳۶۰۰۰ تومان بخریم، برای ۱۲ جلد کتاب چند تومان باید پردازیم؟

کالایی به قیمت ۵۰ هزار تومان را پس از تخفیف ۳۷۵۰۰ تومان خریدیم. چند درصد تخفیف گرفته‌ایم؟



طول پاره خطی با تقریب کم تر از ۱۰۰ گرد و ۷۰۰ اعلام شده است. طول این پاره خط چه عدد هایی می تواند باشد؟

نمره ی دانش آموزان در درس ریاضی به قرار زیر است

(۱۸/۲۵ و ۱۹ و ۱۷/۷۵ و ۱۴/۵ و ۱۲ و ۱۵)

اگر این نمره ها با تقریب کم تر از ۱۰ گرد شود چه نمراتی به دست می آید.

۱۴/۵

۱۹

۱۲

۱۷/۷۵

۱۸/۲۵

۱۵

آیا این تقریب به نظر شما مناسب است؟

شما برای خطای کم تر چه تقریبی را پیشنهاد می کنید.



پرسشی

جمله بساز

امری


عید

عاطفی





آیا می دانید؟



محیط هر دایره برابر است با قطر آن دایره ضرب در عدد  $\pi$ . مقدار عدد  $\pi$  به روش های مختلف محاسبه می شود. غیاث الدین جمشید کاشانی دانشمند بزرگ و مسلمان ایرانی این عدد را تا ۱۰ رقم اعشار محاسبه کرد. عدد  $\pi$  تا ۶ رقم اعشار برابر است با: ۳/۱۴۱۵۹۲



هر بیت چند جمله دارد؟

الف ای غم تو، شادی ام تو ○ ب مایه ی آزادی ام تو ای وطن ○

۸- در محلول آب و نمک حلال

کدام است؟

۹- هم معنی رطوبت

۱۰- هم معنی نادر

۵- خاک مناسب سفالگری

۶- یک کلمه ۵ حرفی که آخر آن

(ر) باشد.

۷- مخالف شروع

۱- سلاح دفاعی زنبور

۲- هم معنی صبور

۳- علامت بیماری است.

۴- تبدیل مایع به گاز


10

8 7 6

4 3 2 1

5 9

جدول را حل کنید.



یک متن بنویسید که در آن این کلمات باشد.



علم - تاثیر گذاری - شهامت - جهان - رایانه - فرهنگ و زبان - کتاب

Handwriting practice area with ten horizontal lines for writing.

عدد	تقریب	قطع کردن	گرد کردن	مقدار خطا در قطع کردن	مقدار خطا در گرد کردن
۳۲۵/۴۹	۱۰				
۲۹۵/۶۹۱	۰/۰۱				
۱۲۷	۱۰				
۴۶	۱۰				

خطای گرد کردن و قطع کردن در هر قسمت را مشخص کنید.



می رسد فصل قشنگ غنچه ها      می شود دنیا به رنگ غنچه ها  
 شاپرک بالا و پایین می رود      شاد بر الا کلنگ غنچه ها  
 زندگی جاریست مثل قاصدک      لا به لای عطر و رنگ غنچه ها  
 چند روزی تا شکفتن مانده است      می خورد آنوقت زنگ غنچه ها  
 غرق زیبایی گل ها می شوند      بوم باغ و آبرنگ غنچه ها

شاعر: یحیی علوی فرد



فسته نباشی عزیزم



سال  
نو مبارک  
۱۳۹۹