

پیک نوروزی  
پایه دوم



به همت خانه فرهنگی غدیر





بهار از راه رسیده است

در شهر، گل‌های بنفشه در جعبه‌های چوبی، دست به دست می‌شود و سفره‌های هفت سین، حال و هوای عید را به خانه‌ها، می‌آورد هر فصل با ویژگی‌های متفاوتش، چیزهایی را به ما می‌آموزد درسی که بهار به ما می‌دهد، رویش، جوانه زدن و شروع مجدد است وقتی طبیعت، دوباره سبز می‌شود و درختان، جوانه می‌زنند، یاد می‌گیریم که پایان سختی‌ها و سردی‌ها، آسایش و آرامش است و نباید در مشکلات ناامید شویم

آمدن دوباره بهار را به شما تبریک می‌گوییم و رویش همیشه‌ی امید را برایتان، آرزومندیم و به بهانه‌ی این شروع دوباره، به کمک اساتید محترم، پیک نوروزی برای شما عزیزان طراحی و آماده شده تا بتوانید مروری بر آنچه تا اکنون آموخته‌اید، داشته باشید

اساتید عزیزی که ما را در این کار همراهی نمودند

طراح سوال: سرکار خانم اندیشه حسینی

طراح جلد و صفحه‌بندی: سرکار خانم لیدا انصاری


سه سال نو مبارک!





برای هر روز از تعطیلات عید نوروز صفحاتی از درس ها را بنویسید و برای مطالعه آن برنامه ریزی کنید.

قرآن	هدیه	مطالعات	علوم	فارسی	ریاضی	
___ تا ___	___ تا ___	___ تا ___	___ تا ___	___ تا ___	___ تا ___	۲ فروردین
___ تا ___	___ تا ___	___ تا ___	___ تا ___	___ تا ___	___ تا ___	۳ فروردین
___ تا ___	___ تا ___	___ تا ___	___ تا ___	___ تا ___	___ تا ___	۴ فروردین
___ تا ___	___ تا ___	___ تا ___	___ تا ___	___ تا ___	___ تا ___	۵ فروردین
___ تا ___	___ تا ___	___ تا ___	___ تا ___	___ تا ___	___ تا ___	۶ فروردین
___ تا ___	___ تا ___	___ تا ___	___ تا ___	___ تا ___	___ تا ___	۷ فروردین
___ تا ___	___ تا ___	___ تا ___	___ تا ___	___ تا ___	___ تا ___	۸ فروردین
___ تا ___	___ تا ___	___ تا ___	___ تا ___	___ تا ___	___ تا ___	۹ فروردین
___ تا ___	___ تا ___	___ تا ___	___ تا ___	___ تا ___	___ تا ___	۱۰ فروردین
___ تا ___	___ تا ___	___ تا ___	___ تا ___	___ تا ___	___ تا ___	۱۱ فروردین
___ تا ___	___ تا ___	___ تا ___	___ تا ___	___ تا ___	___ تا ___	۱۲ فروردین





هفت سین را در تصاویر بالا مشخص کنید و هفت تایی آن را در زیر بنویسید.

Blank writing area with two horizontal lines.



هر ردیف از سکه ها روی هم چند ریال می شود.



ریال



ریال




ریال





برای جدول سوال مناسب بنویس.

ر	ا	ت	۱
س	ا	ی	۲
د	و	ک	۳
ا	ع	د	۴



\_\_\_\_\_ ۱

\_\_\_\_\_ ۲

\_\_\_\_\_ ۳

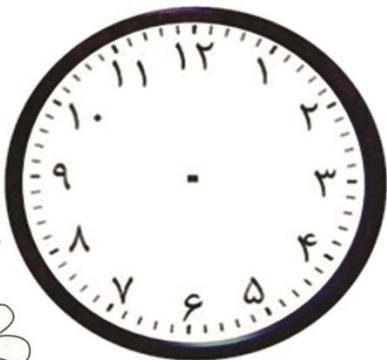
\_\_\_\_\_ ۴

عددهای زیر را به ترتیب از کوچکتر به بزرگتر بنویس.



\_\_\_\_\_

پاسخ هر سوال را با یک رنگ روی ساعت نشان دهید.




۵ دقیقه بعد از ۱۱:۵۵ چه زمانی است؟

۱۰ دقیقه قبل از ۳:۲۰ چه زمانی است؟

۲۰ دقیقه بعد از ۷:۱۵ چه زمانی است؟


۱۵ دقیقه بعد از ۲:۴۵ چه زمانی است؟






۶	۲	۹	۸	۳		۱	۴	۵
۷	۸	۱	۴	۹		۳	۲	۶
۴	۳		۲	۶		۸	۹	۷
۵	۷	۳	۶	۴	۲	۹	۸	۱
۹	۴		۳	۱	۸	۷	۵	۲
۸	۱	۲		۵	۹			۴
۲	۹				۴			۳
۱	۶	۸		۲	۳	۴		۹
	۵	۴	۹	۷	۶	۲	۱	۸

از روی یک پارچه ی گلدار گلها را ببرید و گلدان زیر را کامل کنید.





برای هر تصویر یک جمله بنویسید.



Blank writing area with three horizontal lines.

Blank writing area with three horizontal lines.



Blank writing area with three horizontal lines.





خلاصه داستان حضرت موسی را بنویسید.



---

---

---

---

---

---

---

---

---



رفتن به طبیعت

---

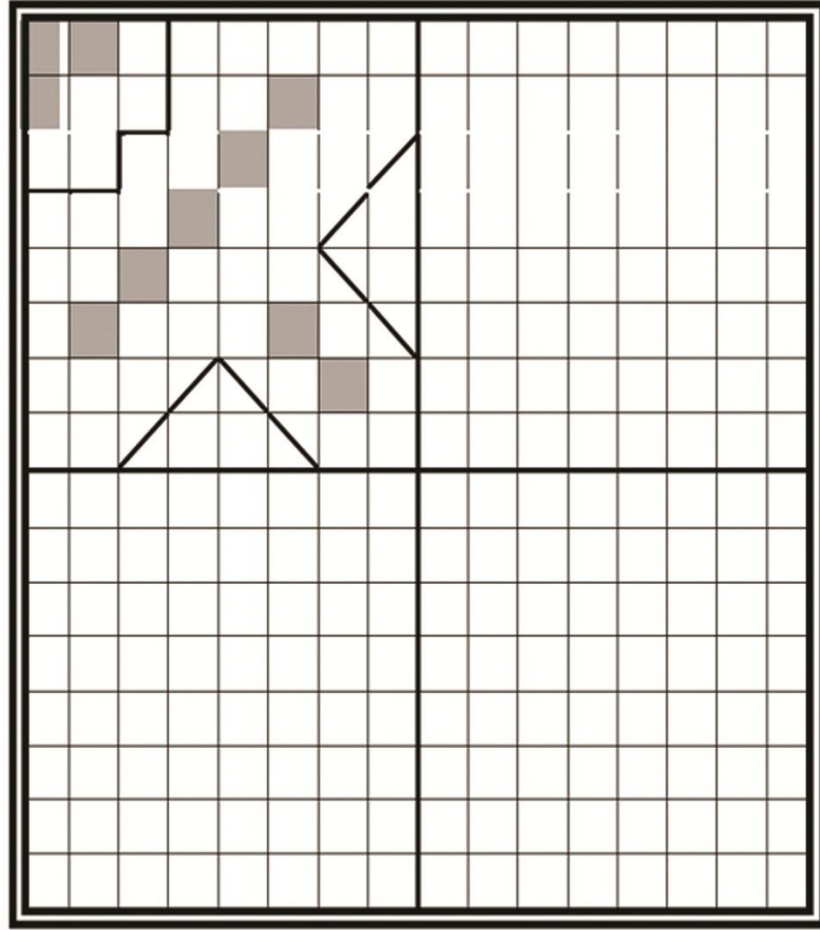
---

---

---

آداب و رسوم سیزده بدر





(با جملات زیبا ادامه بده).

وقتی بهار از راه می رسد


---

---

---

---



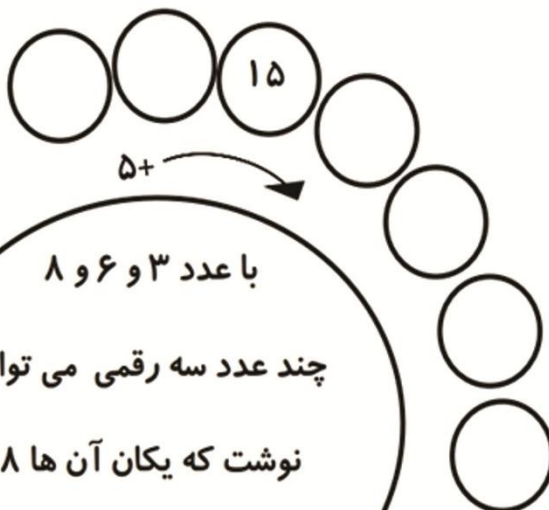
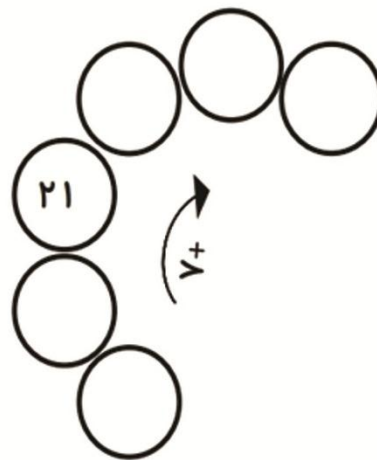
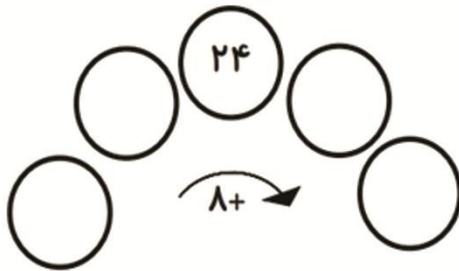


به رقم بنویس.

.....	صد و هشتاد و سه
.....	صد و سی و هفت
.....	دویست و پنج
.....	هشتاد و یک
.....	صد و نوزده


به حروف بنویس.

۱۰۰	_____
۶۹	_____
۱۷۸	_____
۲۶۵	_____
۱۹۱	_____
۷۸	_____



با عدد ۳ و ۶ و ۸  
چند عدد سه رقمی می توان  
نوشت که یکان آن ها ۸  
و صدگان آن ۶ باشد؟





دویدم و دویدم  
 به سبزه ها رسیدم  
 رو فرش سبزه سبزه  
 گل قشنگی دیدم  
 کنار گل نشستم  
 نفس زنان و خسته  
 دیدم که روی آن گل  
 شاپرکی نشسته  
 سفید و سرخ و آبی  
 دو بال رنگارنگ داشت  
 لطیف تر از پر گل  
 دو شاخک قشنگ داشت

فسته نباشی عزیزم



سال  
نو مبارک ۱۳۹۹